

平成〇〇年度

群馬県公立高等学校

入学者選抜学力検査問題

数 学

(前期選抜)

注 意 事 項

- 1 「始めなさい。」の指示があるまで、問題用紙を開かないこと。
- 2 解答は、すべて、解答用紙に記入すること。ただし、(解)とあるところは途中の式などを書くこと。
- 3 「やめなさい。」の指示があったら、直ちに筆記用具を置き、問題用紙と解答用紙の両方を机の上に置くこと。
- 4 問題は、1 ページから 2 ページまであります。
- 5 解答用紙の、小計の欄には何も書かないこと。

1 次の(1)~(3)の間に答えなさい。

(1) 次の①~⑥の計算をしなさい。

① $3-7$

② $(-2) \times (-3)$

③ $\frac{1}{2}a + \frac{1}{3}a$

④ $-3(6x-y)$

⑤ $a^2b^2 \div ab$

⑥ $\sqrt{8} + \sqrt{2}$

(2) 次の①, ②の式を展開しなさい。

① $(x+3)(x+4)$

② $(x-2)^2$

(3) 次の①, ②の式を因数分解しなさい。

① $x^2-6x-16$

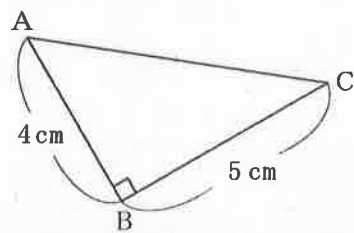
② x^2-16

2 次の(1)~(5)の間に答えなさい。

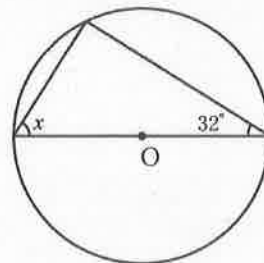
(1) 方程式 $2x-5=-4x+13$ を解きなさい。

(2) 2次方程式 $x^2+x-1=0$ を解きなさい。

(3) 右の図の直角三角形ABCにおいて、辺ACの長さを求めなさい。



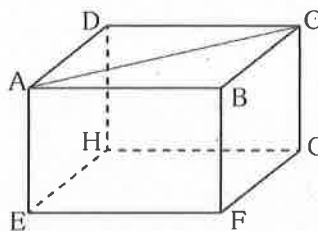
(4) 右の図において、 $\angle x$ の大きさを求めなさい。ただし、Oは円の中心とする。



(5) 関数 $y = \frac{1}{2}x^2$ のグラフをかきなさい。

3 次の(1)~(3)の間に答えなさい。

(1) 右の図の直方体で、線分ACとねじれの位置にある辺をすべて書きなさい。



(2) 10人の平均点が62点であるテストの結果について述べた次のア~ウのうち、いつでも正しいといえるものを1つ選び、記号で答えなさい。

ア 中央値は62点である。

イ 10人の得点の合計は620点である。

ウ 10人のうち5人は、62点以上を取っている。

(3) 大小2つのさいころを投げ、大きいさいころの出た目を a 、小さいさいころの出た目を b とする。このとき、 $a + b$ が素数となる確率を求めなさい。

4 ゆかさんは、自宅から2000 m離れた中学校に通学している。はじめは分速70 mで歩いていたが、途中で遅れそうになったことに気づき、残りを分速150 mで走ったところ、全体で24分かかって到着した。歩いた時間を x 分、走った時間を y 分として、次の(1)、(2)の間に答えなさい。

(1) 右の表のア、イにあてはまる式をそれぞれ書きなさい。

表

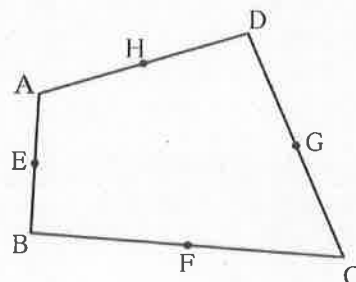
	歩行	走行	合計
時間(分)	x	y	24
速さ(m/分)	70	150	
道のり(m)	ア	イ	2000

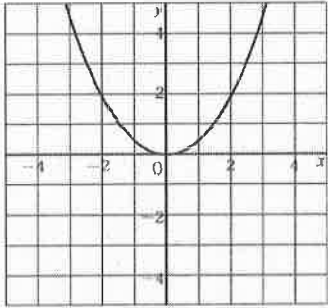
(2) 表をもとに、 x 、 y を求めるための連立方程式を作り、歩いた時間と走った時間をそれぞれ求めなさい。

5 右の図の四角形ABCDにおいて、それぞれの辺の中点をE, F, G, Hとする。次の(1)、(2)の間に答えなさい。

(1) 四角形EFGHはどのような四角形になるか、書きなさい。

(2) 四角形EFGHが(1)のような四角形になることを証明しなさい。



大問 (配点)	正 答	
1 (10)	(1) ① -4 ② 6 ③ $\frac{5}{6}a$ ④ $-18x + 3y$ ⑤ ab ⑥ $3\sqrt{2}$	(2) ① $x^2 + 7x + 12$ ② $x^2 - 4x + 4$ (3) ① $(x - 8)(x + 2)$ ② $(x + 4)(x - 4)$
2 (11)	(1) $x = 3$ (2) $x = \frac{-1 \pm \sqrt{5}}{2}$ (3) $\sqrt{41}$ (4) 58°	(5) 
3 (10)	(1) 辺BF, 辺DH, 辺EF, 辺FG, 辺GH, 辺HE	(2) イ (3) $\frac{5}{12}$
4 (9)	(1) ア $70x$ イ $150y$	(2) [例] 表から次の連立方程式ができる。 $\begin{cases} x + y = 24 & \dots \text{①} \\ 70x + 150y = 2000 & \dots \text{②} \end{cases}$ ① $\times 150 - \text{②}$ より $\begin{array}{r} 150x + 150y = 3600 \\ -) 70x + 150y = 2000 \\ \hline 80x = 1600 \end{array}$ よって, $x = 20$ ①に代入して, $y = 4$ したがって, (歩いた時間) 20 (分), (走った時間) 4 (分)
5 (10)	(1) 平行四辺形	(2) (証明) [例] 四角形ABCDの対角線BDをひく。 △ABDにおいて, Eは辺ABの中点, Hは辺ADの中点であるから, 中点連結定理により $EH \parallel BD, EH = \frac{1}{2}BD$ △CBDにおいても同様にして $FG \parallel BD, FG = \frac{1}{2}BD$ したがって $EH \parallel FG, EH = FG$ 1組の対辺が平行でその長さが等しいから, 四角形EFGHは平行四辺形である。