

平成 31 年 度

群馬県公立高等学校

入学者選抜学力検査問題

社 会

(後期選抜)

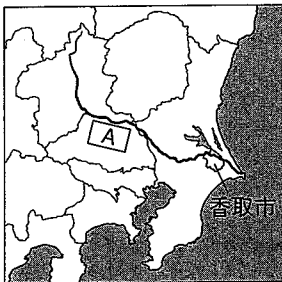
— 注 意 事 項 —

- 1 「始めなさい。」の指示があるまで、問題用紙を開かないこと。
- 2 解答は、全て、解答用紙に記入すること。
- 3 「やめなさい。」の指示があったら、直ちに筆記用具を置き、問題用紙と解答用紙の両方を机の上に置くこと。
- 4 問題は、1 ページから 7 ページまであります。
- 5 解答用紙の、小計の欄には何も書かないこと。

1 勇太さんは、夏休みに訪れた千葉県について調べたことをまとめ、発表した。次の図と資料は、そのときに使用したものの一部である。後の(1)~(5)の問いに答えなさい。

成田国際空港や千葉港のような大きな貿易港がある千葉県は、関東地方や日本全体の経済に影響を持つ地域です。私は、群馬県に源流のある **A** の下流域に当たる、千葉県北部を訪れました。この地域では多くの貝塚を見ることができ、古くから人々が生活していたことが分かりました。私が滞在したのは、親戚の住む香取市です。ここは、正確な日本地図を作ったことで知られる伊能忠敬にゆかりのある地で、その旧宅をはじめとした歴史的な町並みが残っています。観光客も訪れていますが、人口減少に伴うまちの活力の低下など、様々な課題も抱えており、市で行う事業の方向性を示した新しいまちづくりの計画が立てられていました。

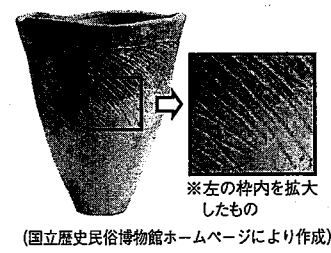
図



資料Ⅰ 貿易港別の貿易品目(上位3品目)

ア		イ			
	割合(%)		割合(%)		
輸入	通信機	15.7	輸入	石油	51.2
	医薬品	10.4		液化ガス	17.9
	集積回路	9.6		自動車	10.0
輸出	金(非貨幣用)	7.7	輸出	石油製品	22.4
	科学光学機器	6.0		鉄鋼	19.0
	集積回路	4.0		有機化合物	16.6

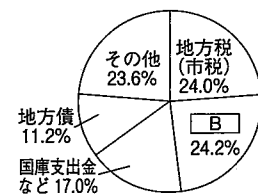
資料Ⅱ



(「日本国勢図会2018/19年版」により作成)

(国立歴史民俗博物館ホームページにより作成)

資料Ⅲ 香取市の歳入(財源別)



資料Ⅳ 香取市民がまちづくりのために重視する取組の上位3項目(アンケート結果)

年齢層	順位	1位	2位	3位
10~30代	商業の振興	雇機・労働環境の向上	子育て支援の充実	
	商業の振興	工業・企業誘致の振興	雇機・労働環境の向上	
60代以上	商業の振興	工業・企業誘致の振興	地域医療体制の充実	

(資料Ⅲ、資料Ⅳは「第2次香取市総合計画」により作成)

(1) 本文と図中に示した

A に当てはまる河川名を書きなさい。

(2) 下線部(a)について、資料Ⅰのア、イは、成田

国際空港と千葉港のいずれかの貿易品目を示したものである。成田国際空港の貿易品目を示しているものを、ア、イから選びなさい。また、そのように判断した理由を、簡潔に書きなさい。

(3) 下線部(b)に関して、資料Ⅱは貝塚の周辺で発見されたもので、表面に特徴的な文様がつけられた道具である。この道具の主な使用目的を、簡潔に書きなさい。

(4) 下線部(c)について、このような日本地図が作成された背景として、蘭学が盛んになり、西洋の知識を取り入れるようになったことが挙げられる。この地図の作成と同時期のできごとで、蘭学に関連するものを、次のア~エから選びなさい。

ア 黒田清輝が「湖畔」を描いた。

イ 本居宣長が「古事記伝」を書いた。

ウ 松尾芭蕉が「奥の細道」を書いた。

エ 杉田玄白らが「解体新書」を出版した。

(5) 下線部(d)について、次の①、②の問いに答えなさい。

① 資料Ⅲに関して、**B** は、地方税などの自主財源を補い、地方公共団体どうしの格差を減らすために国から配分されるものである。**B** に当てはまる語を書きなさい。

② 勇太さんたちは、まちづくりの方向性について、資料Ⅳをもとに、右のように話し合った。資料Ⅳにある項目のうち、勇太さん、大介さんが着目した以外の項目についてのあなたの意見を、**C** に当てはまるように、簡潔に書きなさい。

勇太さんたちが話し合ったこと

勇太：全ての年齢層で商業の振興が重視されているので、買い物しやすい環境をつくるのが大事だと思います。

大介：雇機・労働環境の向上や、工業・企業誘致の振興が重視されているので、安心して働ける場所をつくるのが大事だと思います。

あなた：**C** が大事だと思います。

2 司さんは、祖父の家がある新潟県新潟市で行った地域調査について、発表した。次の図と資料は、そのときに使用したものの一部である。次の(1)~(3)の問いに答えなさい。

(1) 司さんは、次のような経路

で、祖父の家がある「長戸」の集落を訪ねた。後の①、②の問いに答えなさい。

「とよさか」駅の南口から、南東へ進み、役場(区役所)に立ち寄り、地域に関する資料をもらいました。先ほどの道を、さらに1kmほど進み、交差点を右折すると、左手に「総合体育館」がありました。1kmほど進み、交差点を右へ曲がって進むと、「長戸」の集落に着きました。

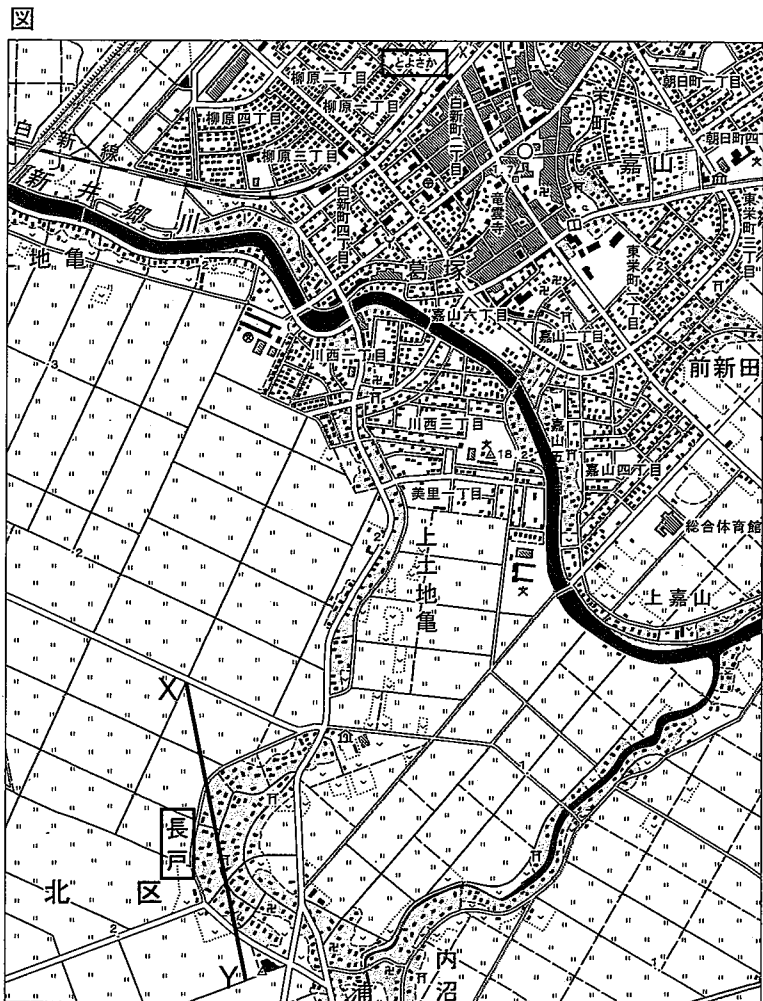
① 司さんが通った道路に接しているものを、次のア~エから選びなさい。

- ア 消防署
- イ 郵便局
- ウ 博物館
- エ 老人ホーム

② 司さんが通った経路を地図上で測ると、長さが16cmであった。実際の距離は何kmになるか書きなさい。

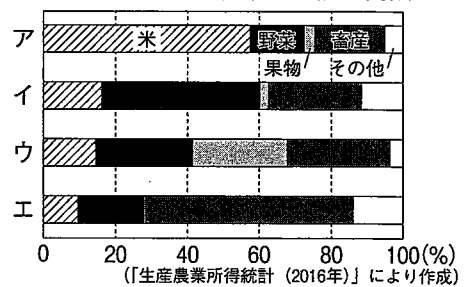
(2) 司さんは、新潟県は農業が盛んであることを祖父から聞き、農業について調べた。資料Iは、日本において耕地面積が上位である、北海道、青森県、茨城県、新潟県のいずれかの農業産出額の内訳を示している。新潟県と茨城県に当たるものを、資料Iのア~エからそれぞれ選びなさい。

(3) 司さんは、新潟市にある図書館で調べたところ、「長戸」の集落は、江戸時代に開発された「長戸呂新田」が元となっており、古くから人々が住んでいたことが分かった。防災の観点から考えた場合、この場所に集落が形成された理由として考えられることを、資料IIを踏まえ、簡潔に書きなさい。

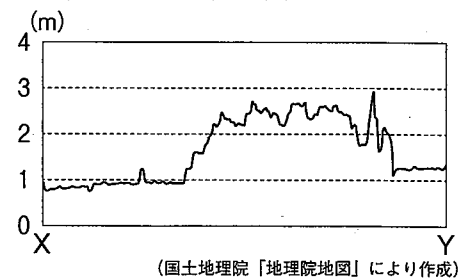


(国土地理院2万5千分の1地形図「水原」2010年発行により作成)

資料I 4道県の農業産出額の内訳



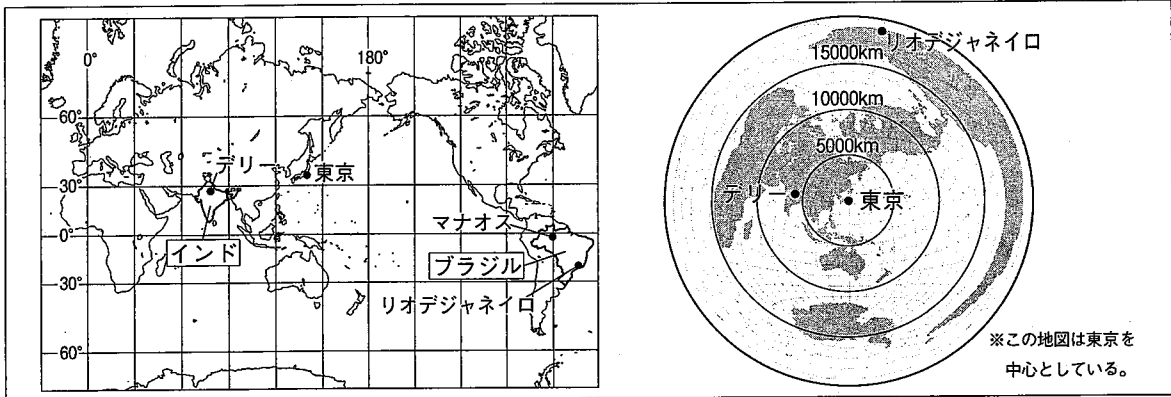
資料II X-Yの断面図



(国土地理院「地理院地図」により作成)

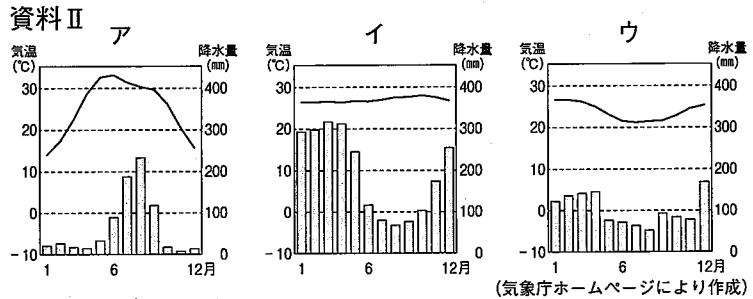
3 美月さんは、インドとブラジルについて調べたことをまとめ、発表した。次の資料は、そのときに使用したものの一部である。後の(1)~(4)の問いに答えなさい。

資料 I



- (1) 資料 I から読み取れる内容として適切なものを、次のア~エから選びなさい。
- ア デリーとリオデジャネイロの経度の差は約50度である。
 - イ リオデジャネイロから見るとデリーは南西にあり、その間の距離は約20000kmである。
 - ウ 東京からリオデジャネイロまでの距離は、東京からデリーまでの距離の約3倍である。
 - エ 東京、デリー、リオデジャネイロのうち、最も早く日付が変わるのはリオデジャネイロである。

(2) 資料 II のア~ウは、資料 I のデリー、マナオス、リオデジャネイロのいずれかの都市の気温と降水量のグラフである。リオデジャネイロに当たるものを、ア~ウから選びなさい。



- (3) 美月さんは、インドとブラジルの農業について、次のように発表した。文中の [A] ~ [C] に当てはまる語句や文を、それぞれ書きなさい。

インドとブラジルの農業について調べてみると、家畜としての牛の頭数とさとうきびの生産量が、ともにブラジルが世界第1位、インドが世界第2位であることが分かりました。このうち牛については、ブラジルでは肉牛が多いのに対し、インドでは [A] 教徒の割合が大きいため、乳牛が多くなっています。ブラジルでは、さとうきびが、砂糖の生産のほか、 [B] の生産にも利用されています。 [B] は、燃やしても [C] と考えられており、環境にやさしいエネルギーとして注目されています。しかし、一方で、さとうきび畑の開発による森林破壊なども問題となっています。

- (4) 資料 III は、インド、ブラジル、日本におけるメーカー別乗用車生産台数の割合を示したものである。資料 III から分かる、インドとブラジルの乗用車の生産に共通する特徴を、日本と比較して、簡潔に書きなさい。

資料 III メーカー別乗用車生産台数の割合 (2016年における上位5社)

インド		ブラジル		日本	
A社(日本系企業)	45.0%	D社(ドイツ系企業)	15.6%	I社(日本系企業)	34.8%
B社(韓国系企業)	19.9%	F社(アメリカ系企業)	15.3%	J社(日本系企業)	10.7%
C社(日本系企業)	10.3%	G社(イタリア系企業)	13.9%	C社(日本系企業)	10.4%
D社(ドイツ系企業)	5.7%	H社(アメリカ系企業)	11.8%	E社(日本系企業)	9.0%
E社(日本系企業)	5.2%	I社(日本系企業)	9.9%	A社(日本系企業)	8.7%
その他	13.8%	その他	33.5%	その他	26.3%

※割合は小数第2位を四捨五入している。
 ※インドとブラジルの「その他」には、それぞれ自国のメーカーが含まれている。

(『世界自動車統計年報2018』などにより作成)

4 直子さんは、日本と諸外国との関係について調べたことをまとめ、発表した。次の資料は、そのときに使用したものの一部である。後の(1)~(4)の問いに答えなさい。

資料Ⅰ

5世紀	大和政権（ヤマト王権）は、朝鮮半島の伽耶（加羅）地域から得た <input type="text" value="A"/> を利用して、関東や九州の豪族を支配しました。
12世紀	日宋貿易に力を入れた平清盛は、瀬戸内海の航路を整えました。その頃、宋との間を多くの商人や僧侶が往来し、新しい仏教が武士や庶民に広まりました。 <small>(a)</small>
17世紀	徳川家康は、大名や豪商に朱印状を発行しました。この後、東南アジアの国々との間で、朱印船貿易が行われるようになりました。 <small>(b)</small>
19世紀	江戸幕府は、清の状況を知り、外国船への対応を変えました。 <small>(c)</small>

資料Ⅱ



(1) に当てはまる金属の名称を、資料Ⅱの埴輪はにわに表現された武人が身に付けているものに着目して、書きなさい。

(2) 下線部(a)について、次の①、②の問いに答えなさい。

① 栄西が宋から伝えた仏教を、次のア~エから選びなさい。

ア 時宗 イ 臨済宗 ウ 浄土宗 エ 浄土真宗

② 直子さんは、新しい仏教の広まりについて、資料Ⅲを用いて次のように発表した。次の文中の に当てはまる文を、資料Ⅲを参考にして、簡潔に書きなさい。

当時は、ききんや災害、戦乱などの不安から、人々は仏教に救いを求めていました。以前の仏教は、教えを教典から学び、山奥の寺で厳しい修行を行うもので、主に天皇や貴族に信仰されていました。一方、新しい仏教は、 ことから、武士や庶民に広まりました。

資料Ⅲ 12世紀以降に広まった新しい仏教の様子

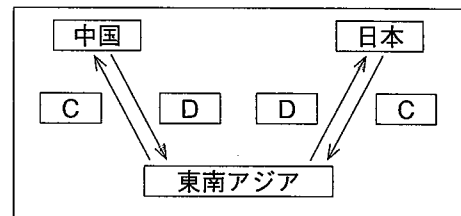
ある時、弟子が道元に寺院での修行生活について問いかけたところ、道元は、「ひたすら座禅をすることである。場所を選ばずひたすら座禅をすることだ。」と答えた。 (部分要約)

(3) 下線部(b)について、資料Ⅳの 、 に当てはまる語の組み合わせとして適切なものを、次のア~エから選びなさい。

ア C：金 D：木綿 イ C：金 D：生糸

ウ C：銀 D：木綿 エ C：銀 D：生糸

資料Ⅳ 朱印船貿易による主な物資の流れ



(4) 下線部(c)について、江戸幕府は、資料Ⅴのできごとの影響により、外国船への対応を変化させた。資料Ⅴのできごとの前と後において、幕府はどのような対応をしたか、それぞれ書きなさい。

資料Ⅴ



5 豊さんは、明治以降の歴史学習のまとめとして、「外国の影響を受けて変化した日本の社会」というテーマで発表した。次の資料は、そのときに使用したものの一部である。後の(1)~(5)の問いに答えなさい。

資料I

外国のできごと	影響	日本の社会
17~18世紀に、イギリスやフランスで革命が起こり、アメリカが独立し、民主政治の体制が確立しました。	明治	板垣退助らが、大久保利通らの政治を専制政治であると批判し、国民が政治に参加する権利の確立を目指す、自由民権運動が始まりました。
第一次世界大戦は総力戦となり、労働者や女性も貢献したため、戦後の欧米諸国はこうした人々の要求に応える政策をとりました。	大正	民衆による護憲運動が盛り上がり、吉野作造が民本主義を唱えるなど、民主主義に基づく社会運動が盛んになりました。この時代の風潮は大正デモクラシーと呼ばれます。
第二次世界大戦後は、アメリカを中心とした自由貿易体制が確立し、欧米先進国では急速な経済成長が進み、豊かな社会が実現しました。	昭和	経済は、戦後10年で戦前の水準に戻り、その後1970年代の初めまで急成長しました。この経済の急成長は高度経済成長と呼ばれ、人々の生活水準は急速に高まりました。

(1) 下線部(a)について、次の文中の A、B に当てはまる語を書きなさい。

フランス人権宣言 (1789年, 部分要約)

アメリカ独立宣言 (1776年, 部分要約)

第1条
人間は、生まれながらにして、
A で B な権利をもっている。

我々は以下のことを自明の真理であると信じる。人間はみな B に創られ、ゆずりわたすことのできない権利を神によって与えられていること、その中には、生命、A、幸福の追求が含まれていること、である。

(2) 下線部(b)について、この運動を進めた人々が政府に要求したことは何か、書きなさい。

(3) 下線部(c)について、この大戦中に起きたできごとを、次のア~エから選びなさい。

- ア 朝鮮戦争 イ ロシア革命 ウ インド大反乱 エ アメリカ南北戦争

(4) 下線部(d)について、豊さんは資料IIを用いて、次のように発表した。後の①、②の問いに答えなさい。

資料II

選挙法 成立年	選挙の 実施年	全人口に占める 有権者の割合(%)
1889	1890	1.1
1900	1902	2.2
1919	1920	5.5
1925	1928	19.8
1945	1946	48.7

(総務省ホームページにより作成)


衆議院議員選挙の実施年における、全人口に占める有権者の割合は、1925年に実現した、満 C 歳以上の全ての男性に選挙権を与える男子普通選挙で大きく増加し、その後、1945年に成立した新選挙法により、1946年にはさらに増加しました。

① 文中の C に当てはまる数字を書きなさい。

② 文中の下線部について、この理由を、有権者になる資格に着目して、書きなさい。

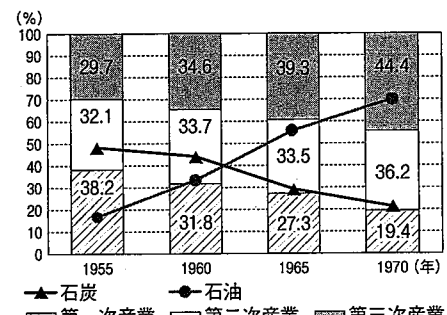
(5) 下線部(e)に関して、資料III 資料III

は、かつて石炭産業で栄えた福島県いわき市で、炭鉱を経営する企業が、新たな事業として1960年代中頃に開業したレジャー施設の様子である。この地域で、新たな事業が始められた理由を、資料IVに着目して、簡潔に書きなさい。



地元の女性による、フラ(ハワイの伝統舞踊)のショーが話題となりました。

資料IV 日本のエネルギー供給量の割合といわき市産業別就業者の割合の推移



※割合は小数第2位を四捨五入している。
(いわき市ホームページなどにより作成)

6 聡太さんと奈々さんの班は、地元の商店街でインタビューを行い、商店街の活性化案を発表した。次の資料は、そのときに使用したものの一部である。後の(1)~(5)の問いに答えなさい。

洋菓子店へのインタビュー

聡太：お店の一番人気のケーキは何ですか。
 店長：いちごをたっぷり使ったケーキです。いちごの価格は季節によって変わりますが、ケーキに使ういちごの量は減らさないよう努力しています。
 聡太：お店の経営や、商店街の様子で、気になっていることはありますか。
 店長：経営状態が景気に左右されることが悩みですね。あとは、商店街を訪れる人の数が減少していることが心配です。

コーヒー店へのインタビュー

奈々：お店を経営する上でのこだわりは何ですか。
 店長：常に、たくさんの種類の豆を扱うようにしています。国際貢献のために、フェアトレード認証を受けたコーヒー豆も販売していますよ。
 奈々：お店の経営で困っていることはありますか。
 店長：うちの店は、外国からコーヒー豆を輸入し、販売しているのですが、最近Aが進んで、仕入れ価格が上がり、困っています。

聡太さんと奈々さんのメモ

○お店へのインタビューから分かったこと
 ・店ごとに、特色を打ち出した経営をしている。
 ・商店街を訪れる人の数は、減少している。
 ・店の経営状態は景気や為替相場の影響を受ける。
 ○商店街の活性化案
 ・ホームページの開設やイベントの開催などのPR活動を行い、お客を呼び込む。
 ・銀行からお金を借りるなど、B金融を利用したり、県や市に補助金を申請したりして必要な資金を集める。

(1) A, B に当てはまる語の組み合わせとして適切なものを、次のア~エから選びなさい。

- ア A:円高 B:直接 イ A:円高 B:間接
 ウ A:円安 B:直接 エ A:円安 B:間接

(2) 下線部(a)に関して、以下の①, ②の問いに答えなさい。

資料Ⅰの1月~11月を見ると、一般的に、いちごの入荷量が多い時期は、価格はiいくなっている。12月は、11月に比べ、いちごの入荷量が多くなっているにもかかわらず、価格は、iiいくなっている。この理由として、iiiいことが考えられる。

① i, ii に当てはまる語の組み合わせとして適切なものを、次のア~エから選びなさい。
 ア i:高 ii:高 イ i:高 ii:低 ウ i:低 ii:高 エ i:低 ii:低

② iii に当てはまる文を、「需要」と「供給」という語を用いて、簡潔に書きなさい。

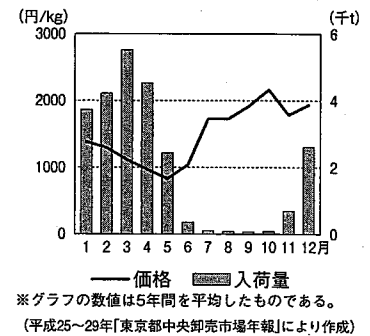
(3) 下線部(b)に関して、不況のときに企業が一般的に行うと考えられる取組として最も適切なものを、次のア~エから選びなさい。

- ア 従業員の数を増やす。 イ 商品の生産を減らす。
 ウ 従業員の給与を上げる。 エ 商品を値上げして販売する。

(4) 下線部(c)について、フェアトレードとはどのようなことか、「発展途上国」、「価格」という語を用いて、簡潔に書きなさい。

(5) 下線部(d)に関して、聡太さんと奈々さんは、PR活動の事例を調べ、資料Ⅱのポスターを見つけた。このポスターは、地域の飲食店をPRして集客をねらうだけでなく、ある問題を解決することも目的としている。この問題は、資料Ⅲから分かるように、多くの商店街が抱えている問題である。資料Ⅱ、資料ⅢのCいに当てはまる語を書きなさい。

資料Ⅰ いちごの価格と入荷量



資料Ⅱ

絶やすな！絶品グルメ
 このままでは消えてしまう！
 地元で長年愛されてきた
 名物店主や絶品グルメ
 店の将来を担う
 Cい・働き手募集中！

資料Ⅲ 各地の商店街が抱える主な課題

- ・Cい不足
 - ・店舗等の老朽化
 - ・話題性のある店が少ない
 - ・商店街の魅力が知られていない
- (「平成27年度商店街実態調査報告書」により作成)

7 貴史さんの班では、現代の社会の課題についてまとめ、発表した。次のワークシートと資料はそのときに使用したものの一部である。後の(1)～(4)の問いに答えなさい。

ワークシート「よりよい社会を目指して」

	貴史さん	涼子さん	健太さん
課題であると感じたこと	無実の罪で有罪となる A によって長期間拘束されていた人がいる。	女性(b)が働く際に育児と仕事の両立が難しい場合がある。	マスメディアが伝える情報に振り回されてしまう場合がある。
理想だと思うこと	A を生まない制度や救済手段があること。	仕事と家庭生活が両立しやすい社会であること。	人々が正しい情報を共有できること。
課題を解決するために大切だと思うこと	法律(a)についての相談窓口や救済手段についてよく学んでおく。	一人一人が性別による固定的な役割分担の意識にとらわれず、男女が協力する。	情報を受けとる側が メディア (c)のアリテラシーを身に付ける。

- (1) **A** に当てはまる語を書きなさい。
- (2) 下線部(a)について、貴史さんは、相談窓口について調べたことを資料Iを用いて、次のように発表した。後の①、②の問いに答えなさい。

日本は、アメリカやフランスと比べると、**あ** ことが分かる。そこで、司法制度改革の一環として、法律にまつわる問題を解決するための総合案内所である **い** が設置された。

- ① 資料Iを参考にして、**あ** に当てはまる文を、簡潔に書きなさい。
- ② **い** に当てはまる語を書きなさい。
- (3) 下線部(b)に関して、資料II、資料III、資料IVは、涼子さんが見つけたものである。次の①、②の問いに答えなさい。
- ① 資料IIは、1985年に制定された法律の一部である。この法律の名称を書きなさい。
- ② 資料IIIは、部下にとって理解ある上司が増えるよう、行われている取組の1つである。この取組が広まることによって、どのようなことが期待できると考えられるか、資料IVを踏まえて、簡潔に書きなさい。
- (4) 下線部(c)について、健太さんはメディアリテラシーに着目した。メディアリテラシーとはどのようなことか、簡潔に書きなさい。

資料I 人口10万人当たりの裁判官、検察官、弁護士の人数

	日本	アメリカ	フランス
裁判官	3.1	10.0	8.5
検察官	2.2	10.1	2.9
弁護士	31.7	385.4	97.6

(「裁判所データブック2018」により作成)

資料II

第一条〔目的〕

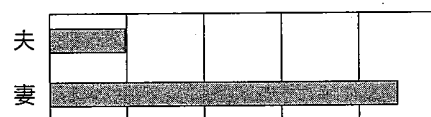
この法律は、法の下での平等を保障する日本国憲法の理念にのっとり雇用の分野における男女の均等な機会及び待遇の確保を図るとともに、女性労働者の就業に関して妊娠中及び出産後の健康の確保を図る等の措置を推進することを目的とする。

資料III イクボス宣言

- 私は、仕事を効率的に終わらせ早く帰る部下を評価します。
- 私は、土日、定時以降には、仕事の依頼をしません。(できるだけ)
- 私は無駄に残らず、率先して早く帰ります。
- 「え、男なのに育休？」などとは絶対に思いません。
- 私は、部下のどんな相談にも応じます。

(厚生労働省ホームページにより作成)

資料IV 6歳未満の子供を持つ夫・妻の1日当たりの育児時間(2016年)



0 50 100 150 200 250 (分)
(総務省「平成28年社会生活基本調査結果」により作成)